



cuaderno de
matemáticas



Cuerpos geométricos. La moneda

cuaderno de matemáticas 30

proyecto educativo faro



Este libro está impreso sobre papel reciclable, ecológico, libre de cloro, y contribuye al desarrollo sostenible de los bosques.

Ilustración

Gustavo Otero

Edición

Equipo Dylar

Maquetación

copion

Impresión

Brosmac, S.L.

ISBN cuaderno: 978-84-89655-83-6

Depósito Legal:

© Proyecto Educativo Faro

© **DYLAR Ediciones**

www.dylar.es

E-mail: dylar@dylar.es

Tel.: 902 44 44 13


1 Colorea cada polígono.

triángulo: verde


cuadrado: azul

rectángulo: rojo


círculo: amarillo



2 Dibuja el lado que le falta a cada polígono.



3 Escribe dentro de cada polígono su número de lados.

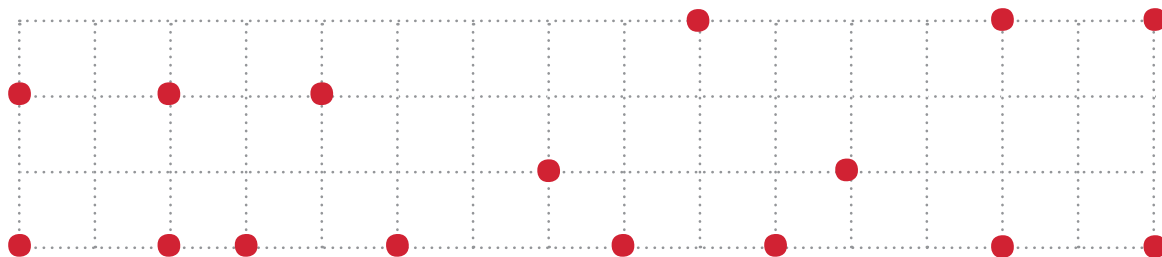


4 Une los vértices para formar polígonos.

cuadrado triángulo

pentágono




rectángulo




5 Repasa los lados de verde y marca de rojo los vértices.



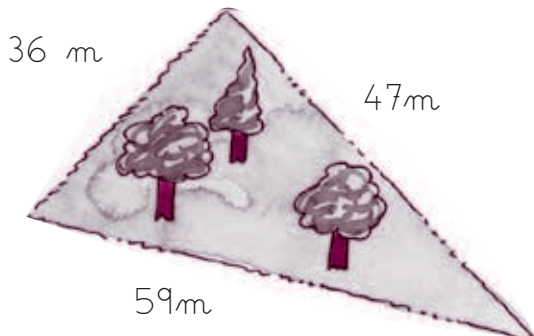
6 ¡De compras! Calcula las monedas que necesitas de cada clase.

Monedas	5 cent.	20 cent.	50cent.	1 euro	2 euros.
 355					
 430					
865 					

7 Rellena con el mismo color los polígonos con igual número de lados.



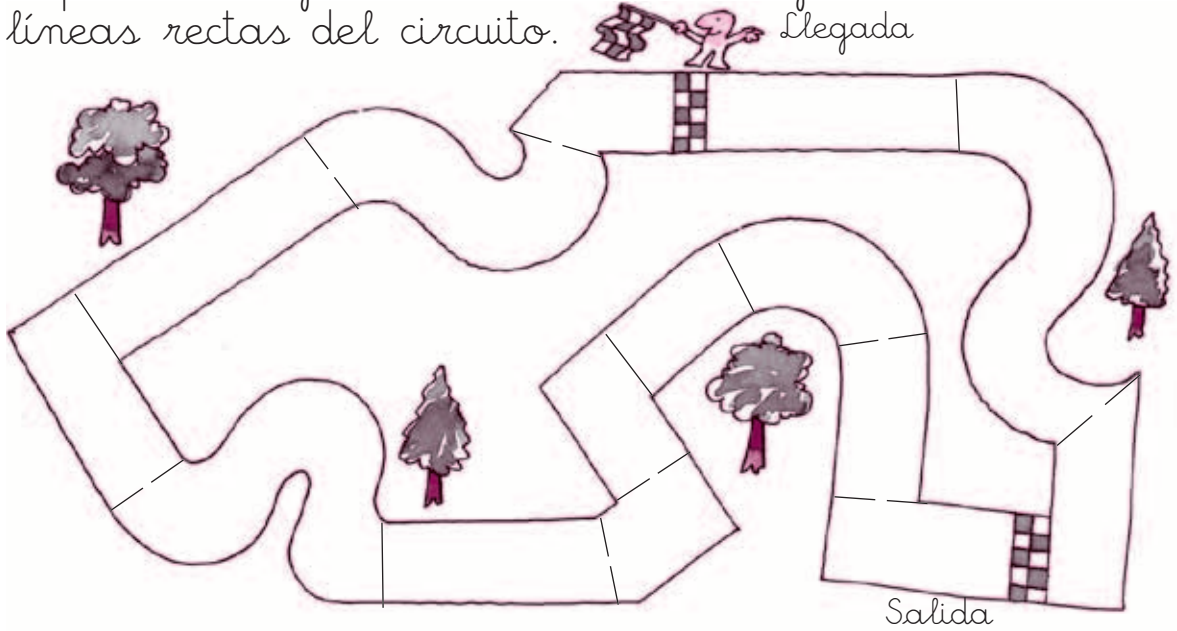
8 Un campo tiene forma de triángulo. Un lado mide 36 metros, otro 47 m y el tercero 59 m. ¿Cuánto miden entre los tres lados?



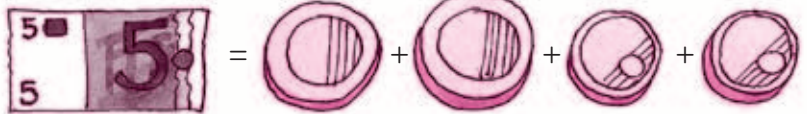
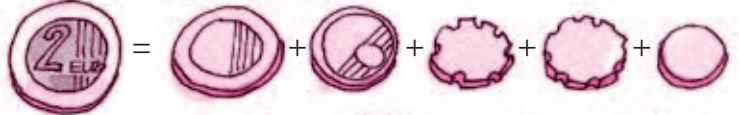
Midenmetros.



9 Repasa de rojo las líneas curvas y de azul las líneas rectas del circuito. Llegada



10 Completa las monedas que te dará la máquina de cambio.







11 Completa la serie.




.....



12 Completa la tabla.

	nombre	número vértices	número lados
			
			
			
			

13 Dibujar 5 polígonos que ocupen 7 cuadros.



14 Repasa de rojo las líneas curvas y de azul las rectas.



15 Completa.



Son las
y

.....
.....

.....
.....



Son las cuatro.

Son las nueve
y media.

Son las ocho
y media.

16 ¿Qué monedas le devolverá el cobrador a cada niño?



Pedro entrega 2 euros para 1 billete y le dan 2 monedas.

.....
Luis entrega 5 euros para su billete y recibe los cambios en 4 monedas.

.....
Antonio paga con 5 euros dos billetes y le devuelven 4 monedas.

.....

